

水戸ご当地検定 第 5 回 水 戸 検 定

問 題 用 紙

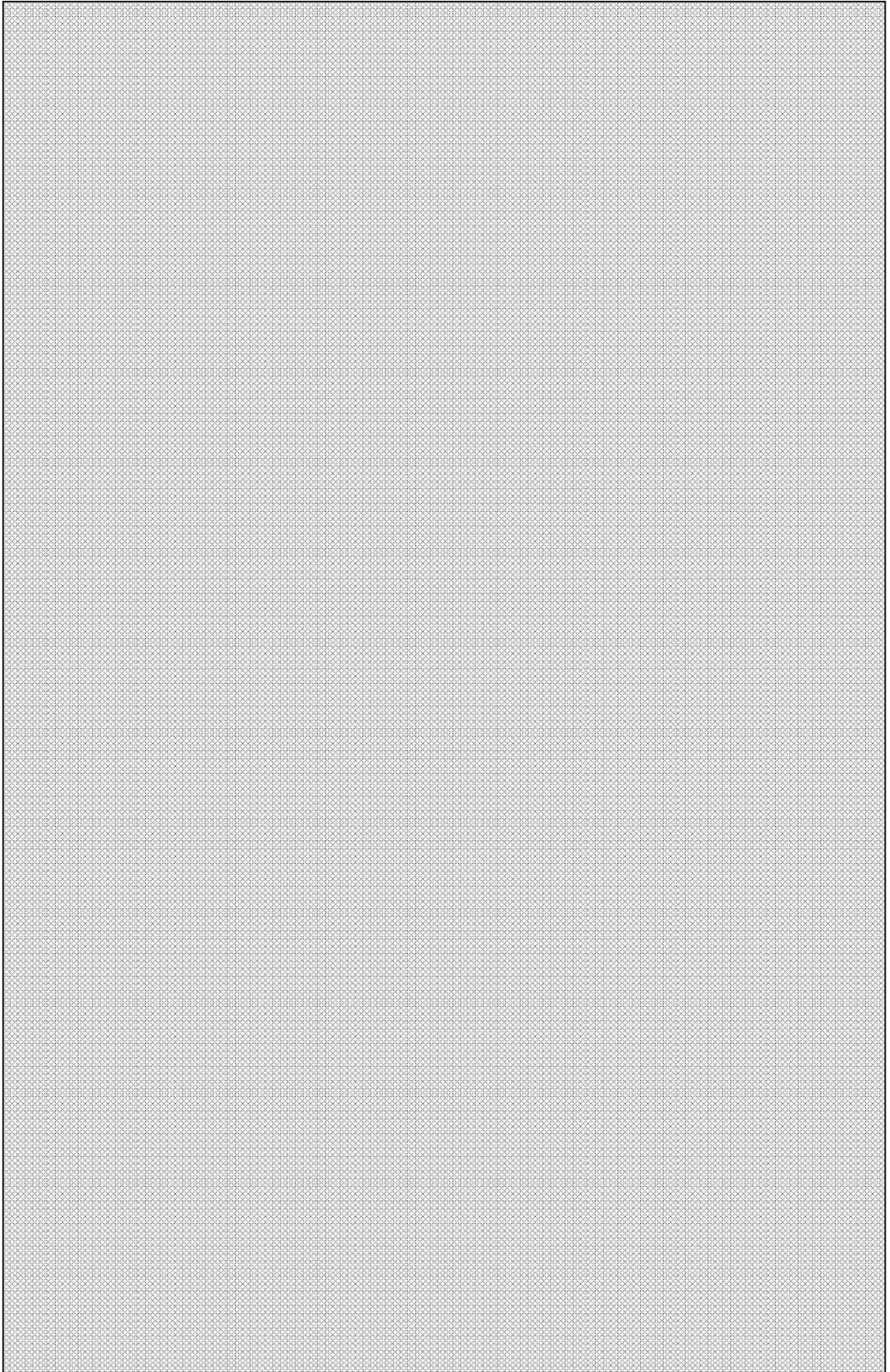
==注意事項==

1. 本冊子はお持ち帰りいただくことができません。受検時間が終了いたしましたら、係が回収いたします。また、後日郵送いたします。
2. 受検時間は以下の通りです。開始の合図があるまで、本冊子を開かないでください。
 午前の部 10:00～11:30 (90分 100問)
 午後の部 13:30～15:00 (90分 100問)
3. 問題は、4つの選択肢の中から最もふさわしいものを選択していただく形式です。また解答はすべて、別紙の解答用紙に記入してください。
4. 携帯電話の電源はお切りください。
5. 正答率80%以上で1級、60%以上で2級、40%以上で3級、39%以下で4級と認定します。
6. 本検定の結果は、本年11月22日(木)に水戸検定ホームページに掲載致します。また、同日以降、順次、各受検者の方々に認定証等を発送する予定です。

平成 24 年 10 月 27 日
水戸検定実行委員会

番号

氏名



次の1～100の問題について、それぞれ選択肢①～④から最も適切だと思われるものを一つ選び、解答用紙にその番号をマークしてください。

問題 1 現在水戸市がある場所の古代の国名は何だったでしょう。

- ① 下総国
- ② 常陸国
- ③ 武蔵国
- ④ 陸奥国

問題 2 那珂川にかかっている橋で、水戸市にないものは、次のうちどれでしょう。


- ① 水府橋
- ② 勝倉橋
- ③ 万代橋（よろずよばし）
- ④ 海門橋

問題 3 水戸市に最初に鉄道が開通した時、水戸はどこにつながったでしょう。

- ① 大洗
- ② 小山
- ③ 太田
- ④ 土浦

問題 4 水戸芸術館のアートタワーは、正四面体28個を積み上げた形状をしています。その正四面体の一辺の長さは何メートルでしょう。

- ① 6.6 m
- ② 7.6 m
- ③ 8.6 m
- ④ 9.6 m



問題 5 現在6箇所ある水戸市立図書館のうち、バチカンのサンピエトロ寺院大回廊をイメージして作られた周囲約400メートルの回廊がある図書館は次のうちどれでしょう。

- ① 東部図書館
- ② 西部図書館
- ③ 内原図書館
- ④ 常澄図書館

問題 6 水戸コミュニティ放送「FMぱるるん」で放送を行っているサテライトスタジオがある建物は次のうちどれでしょう。


- ① 京成百貨店
- ② エクセルみなみ
- ③ COMBOX 310
- ④ MIMO

問題 7 水戸市は、多くの都市と都市間の交流・親善を深めています。次の説明のうち、誤っているものはどれでしょう。

- ① 高松市は頼房公の長子頼重公が高松藩初代藩主になったという繋がりから親善都市になった。
- ② 彦根市とは、敦賀市の仲立ちにより、幕末の桜田門外の変のわだかまりを超えて親善都市になった。
- ③ 国際親善姉妹都市アナハイム市は、松井秀樹選手も所属したエンゼルスの本拠地として知られる。
- ④ 中国の重慶市とは、1985年に友好交流都市の提携をした。

問題 8 水戸市出身の大相撲力士で横綱になった力士は次のうち誰でしょう。

- ① 常陸山（ひたちやま）
- ② 水戸泉（みといずみ）
- ③ 武双山（むそうやま）
- ④ 雅山（みやびやま）



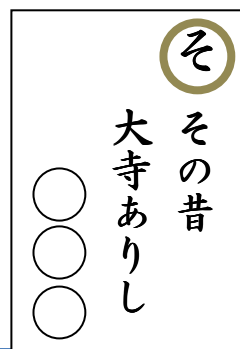
問題 9 水戸市では、節々で記念事業が営まれてきましたが、次のうち市制施行90周年事業として誤っているものはどれでしょう。

- ① 市民体育館開設
- ② 市立博物館開設
- ③ 市立図書館開設
- ④ 市民球場開設

問題 10 水戸郷土かるたの一枚です。○○○に入れるべき適切な語句は次のうちどれでしょう。

「その昔 大寺ありし ○○○」

- ① 千波山
- ② 西の谷
- ③ 新屋敷
- ④ 台渡里



問題 11 国指定の天然記念物に指定されているオハツキイチョウがあることで知られている神社として、正しいものは次のうちどれでしょう。

- ① 水戸八幡宮
- ② 吉田神社
- ③ 護国神社
- ④ 別雷皇太神

問題 12 水戸市の最初の市歌は、戦前常磐村合併を契機に作られ、現在の市歌は戦後の合併を契機に新しく制定されました。市歌について述べた次の文章のうち誤っているものはどれでしょう。

- ① 最初の市歌は、昭和10年（1935年）に北原白秋作詞、山田耕作作曲で作られた。
- ② 最初の水戸市歌は四番まであり、それぞれの出だしの部分に、偕楽園や河川を見下ろす台地からの眺望が描写されている。
- ③ 現在の市歌は昭和34年（1959年）に西条八十作詞、古関裕而作曲で作られた。
- ④ 現在の市歌も4番まであり、4番は「笑顔をそろえて力を協せ」で始まる。

問題 13 水戸芸術館は元の市立小学校の敷地に作られました。建設の際、移転された小学校は次のうちどれでしょう。

- ① 五軒小学校
- ② 新荘小学校
- ③ 千波小学校
- ④ 三の丸小学校

問題 14 映画「仁義なき戦い」「蒲田行進曲」「バトル・ロワイアル」などで知られる水戸出身の映画監督は、次のなかのどれでしょう。

- ① 深作欣二（ふかさくきんじ）
- ② 小泉堯史（こいずみたかし）
- ③ 柳町光男（やなぎまちみつお）
- ④ 梶間俊一（かじましゅんいち）

問題 15 水戸市の平成24年度予算総額として最も正しく表現しているのはどれでしょう。

- ① 約634億円
- ② 約1,634億円
- ③ 約2,634億円
- ④ 約3,634億円

問題 16 次の図書館・史料館のうち水戸市が運営する施設ではないものはどれでしょう。

- ① 内原郷土史義勇軍史料館
- ② 見和図書館
- ③ 大塚農民館
- ④ 佐川文庫

問題 17 「梅まつり」の期間中、(社)水戸青年会議所が主管して、偕楽園で行われる夜のイベントはどれでしょう。

- ① 梅・月・祭
- ② 夜・梅・祭
- ③ 星・夜・祭
- ④ 梅・星・祭

問題 18 明治14年(1881年)8月に創刊され、翌15年(1882年)8月、33号をもって廃刊された「水戸新聞」。発行元はどれでしょう。

- ① 水戸法学館
- ② 水戸文学館
- ③ 水戸史学館
- ④ 水戸医学館

問題 19 水戸ホーリーホックにも在籍し、日本代表で大活躍することとなった選手はどれでしょう。

- ① 中田英寿
- ② 名波浩
- ③ 田中マルクス闘莉王
- ④ 長谷部誠

問題 20 大日本史編纂にも使用された水戸藩ともゆかりの深い和紙の名称はどれでしょう。

- ① 東ノ内和紙
- ② 西ノ内和紙
- ③ 南ノ内和紙
- ④ 北ノ内和紙

問題 21 平成24年(2012年)9月、水戸光圀の人物像を新たな切り口で描いた小説『光圀伝』が発売され大きな話題になりました。この作者「沖方 丁」の読み方として正しいものは次のうちどれでしょう。

- ① おきかた ちょう
- ② ちゅうほう てい
- ③ うぶかた とう
- ④ おきがた とう

問題 22 東日本大震災では、水戸も多くの被害をうけました。とくに弘道館では、貴重な文化財である建造物が倒壊しています。さて、倒壊をした建造物はどれでしょう。

- ① 弘道館正門
- ② 孔子廟
- ③ 学生警鐘のやぐら
- ④ 正庁

問題 23 元吉田にある吉田小学校は第二次世界大戦後ある意外な施設の跡地を利用しています。さてその施設はどれでしょう。

- ① 競技場
- ② 飛行場
- ③ 発電所
- ④ 駅

問題 24 平成23年(2011年)に千波湖に設置された親水デッキには「ある星座」の形にライトが埋め込まれています。さてその星座はどれでしょう。

- ① みずがめ座
- ② はくちょう座
- ③ オリオン座
- ④ カシオペア座

問題 25 水戸駅の一日の乗客数として最も近いものは次のうちどれでしょう。

- ① 10,000人
- ② 20,000人
- ③ 30,000人
- ④ 40,000人

問題 26 水戸市笠原町の茨城県庁には展望台フロアがありますが、展望台の階数と高さで正しいものはどれでしょう。

- ① 25階・約100メートル
- ② 30階・約100メートル
- ③ 25階・約150メートル
- ④ 30階・約150メートル

問題 27 水戸ホーリーホックの2012年シーズンのスローガンとして正しいものは、次のうちどれでしょう。

- ① 「前へ。」
- ② 「たつ」
- ③ 「超えろ。」
- ④ 「かけろ。」

問題 28 平成24年(2012年)、ロンドンオリンピックで活躍した大津祐樹選手は水戸市出身です。さて、大津選手は何の種目の日本代表選手でしょう。

- ① 水泳
- ② 陸上競技
- ③ サッカー
- ④ バレーボール

問題 29 水戸黄門で知られる徳川光圀の父親はどれでしょう。

- ① 徳川家康
- ② 徳川頼房
- ③ 徳川家光
- ④ 徳川斉昭

問題 30 笠原水道の説明として誤っているものは、次のうちどれでしょう。

- ① 寛文3年(1663年)に完成した日本で8番目の水道である。
- ② 工事には554両のお金と、延べ2万5000人の人夫がかかった。
- ③ 町奉行望月恒隆が平賀保秀に計画させた。
- ④ 水戸下町の給水難を解消するために徳川光圀が作らせた。

問題 31 江戸時代の交通について述べた文章で、誤っているものはどれでしょう。

- ① 久慈川や那珂川は当時重要な物資輸送路であった。
- ② 東北地方の物産の多くが、湊(那珂湊)から涸沼を通り、北浦-潮来を經由して江戸に運ばれた。
- ③ 下町(下市)が交通の要所として栄えた。

④ 水戸街道は江戸時代の五街道の一つであった。

問題 32 偕楽園が徳川斉昭によって作られた年代は、次のうちどれでしょう。

- ① 貞享年間（1686年）
- ② 延宝年間（1676年）
- ③ 天保年間（1842年）
- ④ 元禄年間（1700年）

問題 33 第9代藩主徳川斉昭は、問題32の時代に藩政の改革を行いました。この改革に含まれていないのはどれでしょう。

- ① 全領の検地をおこなった。
- ② 寺社の整理を行なった。
- ③ 大砲製造のため、反射炉を築いた。
- ④ 江戸詰の家臣を水戸に移住させた。

問題 34 水戸藩は幕末の政治に大きな影響を与えます。これについて述べた文章で、誤っているものはどれでしょう。

- ① 水戸藩の尊王攘夷論は多くの志士に支持された。
- ② 徳川斉昭は大老井伊直弼と対立し、謹慎を命じられた。
- ③ 藩の意見は、幕府の政策への対応をめぐる分裂した。
- ④ 攘夷の実行を主張したいわゆる「天狗党の乱」は藩の外で戦われた。

問題 35 水戸藩は江戸に将軍から屋敷を与えられていました。水戸藩の江戸屋敷の説明として、誤っているものは次のうちどれでしょう。

- ① 小石川の上屋敷の跡は、現在小石川後楽園と東京ドームとなっている。
- ② 本郷駒込に中屋敷があり、上屋敷に事故のある場合の避難所の役割も担っていた。
- ③ 本郷駒込の中屋敷の跡は、現在東京大学農学部の敷地となっている。
- ④ 本所向島に下屋敷があり、その庭は現在向島百花園（むこうじまひゃっかえん）となっている。

問題 36 第9代藩主徳川斉昭の7男として生まれ、江戸幕府最後の将軍となった徳川慶喜は、将軍職を継承するまで家督を相続していたのは次のうちどれでしょう。

- ① 田安德川家（たやすとくがわけ）
- ② 一橋徳川家（ひとつばしとくがわけ）
- ③ 清水徳川家（しみずとくがわけ）
- ④ 尾張徳川家（おわりとくがわけ）

問題 37 水戸市出身の洋画家五百城文哉について次の説明のうち、誤っているものはどれでしょう。

- ① 文久3年(1863年)、水戸市金町の水戸藩士の家に生まれた。
- ② 洋画の先覚者高橋由一に入門し、油絵を学んだ。
- ③ パリの万国博覧会で「日光東照宮陽明門」を出展した。
- ④ 晩年は日光に居を構え、日光を舞台に多くの作品を残した。

問題 38 偕楽園の本来の入り口とされ、「好文亭表門」と表札がかかっている門の、別名は何と言うでしょう。

- ① 「黒門」
- ② 「白門」
- ③ 「赤門」
- ④ 「黄門」

問題 39 河和田町にある報仏寺(ほうぶつじ)の説明として誤っているものはどれでしょう。

- ① 境内とその周辺は、佐竹の館があった河和田城の跡である。
- ② 開基者は親鸞の弟子で「歎異抄(たんにしょう)」の選者と言われる唯円(ゆいえん)とされる。
- ③ 県指定文化財の木造大黒天像を安置している。
- ④ 江戸時代に現在地に移った。

問題 40 徳川光圀が編さんを始めた歴史書が「大日本史」です。この書物に関する次の説明の中で、誤っているものはどれでしょう。

- ① 本紀では神武天皇から後小松天皇までの治世を扱っている。
- ② 全巻の完成は明治39年(1906年)である。
- ③ 漢文ではなく、和文で書かれている点に特徴がある。
- ④ 紀伝体という形式で書かれている。

問題 41 水戸藩九代藩主徳川斉昭が定めた水戸八景のうち、現在水戸市内にあるものは、「青柳夜雨」ともう一つはどれでしょう。

- ① 僊湖暮雪(せんこのぼせつ)
- ② 山寺晚鐘(やまでらのばんしょう)
- ③ 水門帰帆(みなとのきはん)
- ④ 岩舟夕照(いわふねのせきしょう)

問題 42 弘道館の名称は、『弘道館記』冒頭の「弘道よく道を・・・」の一節から引用されています。さてこの「弘道」の出典はつぎのどれでしょう。

- ① 論語
- ② 大学
- ③ 孟子
- ④ 中庸

問題 43 栗崎町にある佛性寺（ぶっしょうじ）本堂は国指定重要文化財に指定されている建造物で、堂内の柱にある墨書から建築年代や修復年代が判明している貴重な事例です。次の年号の中で建築年代はどれでしょう。

- ① 寛永8年
- ② 文化13年
- ③ 寛文3年
- ④ 天正13年

問題 44 水戸徳川家は儒教の教えを尊び、藩主の死後に贈られる諡に中国風のものを用いています。次の藩主名と諡の組み合わせのうち誤っているものはどれでしょう。

- ① 3代綱條－肅公
- ② 6代治保－節公
- ③ 7代治紀－武公
- ④ 10代慶篤－順公

問題 45 水戸藩士の子に生まれ、教育功労者として知られる菊池謙二郎が校長を務めた学校として正しいものは次のうちどれでしょう。

- ① 県立水戸中学校（現水戸第一高等学校）
- ② 県立水戸農学校（現水戸農業高等学校）
- ③ 県立商業学校（現水戸商業高等学校）
- ④ 県立水戸高等女学校（現水戸第二高等学校）

問題 46 諸国漫遊の逸話が残る徳川光圀ですが、実際は江戸と水戸の往復以外に立ち寄ったとされる場所は限られます。さて記録に残るその場所とはどれでしょう。

- ① 高松
- ② 京都
- ③ 鎌倉
- ④ 奈良

問題 47 次の文で始まる文章が記載されている碑として適切なものを、選択肢から選んでください。

「天に日月あり。地に山川有り、万物を曲成して遺さず。…」

- ① 「弘道館記碑」
- ② 「偕樂園記碑」
- ③ 「種梅記碑」
- ④ 「菁莪遺徳の碑」

問題 48 水戸市出身の郷土史家前田香径について、誤っているものはどれでしょう。

- ① 水戸市議会議員を3期務めた。
- ② 彫刻家後藤清一と親交が厚かった。
- ③ 「谷中小唄」「竹隈小唄」などの作詞も手がけた。
- ④ 昭和2年（1927年）まで、出向先のアメリカで過ごした。

問題 49 備前堀に架かる橋のなかで、伊奈備前守忠次の像が建てられているのはどれでしょう。

- ① 道明橋
- ② 伊奈橋
- ③ 銷魂橋（たまげばし）
- ④ 学びの橋

問題 50 幕末の水戸藩において「三田」と称された人物として、含まれないものは次のうちどれでしょう。

- ① 戸田忠敬
- ② 藤田東湖
- ③ 武田耕雲斎
- ④ 栗田寛

問題 51 千波湖の貯水量はどれくらいでしょう。

- ① 約36万5千 m^3 ＝東京ドームの約3分の1
- ② 約62万 m^3 ＝東京ドームの約半分
- ③ 約124万 m^3 ＝東京ドーム約1個分
- ④ 約50万 m^3 ＝東京ドーム約2個分

問題 52 水戸地方気象台による水戸市の、過去30年間の平均年間降水量として最も近いものは次のうちどれでしょう。

- ① 700 mm = 0.7 m
- ② 1,000 mm = 1.0 m
- ③ 1,300 mm = 1.3 m
- ④ 1,600 mm = 1.6 m

問題 53 水戸市の、過去30年間の年間平均気温は何度でしょう。

- ① 8.2度
- ② 13.6度
- ③ 16.7度
- ④ 20.8度

問題 54 現在の水戸市の面積と人口の組み合わせとして、もっとも近いものは次のうちどれでしょう。

- ① 約187 km²・約26万9千人
- ② 約217 km²・約29万6千人
- ③ 約187 km²・約29万6千人
- ④ 約217 km²・約26万9千人

問題 55 水戸で発見された化石の絶滅哺乳類「ミトアザラシ」が生息していた時代として、正しいものは次のうちどれでしょう。

- ① ジュラ紀ー被子植物の出現、始祖鳥（しそちょう）出現の時期
- ② 白亜紀ー恐竜の繁栄と絶滅の時期
- ③ 第三紀ー約6500万年前～約180万年前
- ④ 第四紀ー約180万年前～現代

問題 56 千波湖の南岸、柳崎（やなぎさき）貝塚から産する貝類として主要なものはヤマトシジミです。このことから読み取れる縄文時代の状況の説明として、正しいものは次のうちどれでしょう。

- ① 千波湖は現在の死海（しかい、イスラエル・ヨルダン）のような高塩分な湖であった。
- ② 温暖化によって海面が上がり、周辺には海水が混じった汽水環境が広がっていた。
- ③ 元は隣り合っていた大串貝塚と柳崎貝塚が地殻の変動により切り離された。
- ④ 大洗・湊沼と現在の千波湖周辺を結ぶ交易が盛んに行われていた。

問題 57 秋～冬の千波湖には多数の渡り鳥が飛来して、私たちの心を豊かにしてくれます。千波湖に飛来する次の鳥のうち、誤っているものはどれでしょう。

- ① オオハクチョウ
- ② オオバン
- ③ タンチョウヅル
- ④ マガモ

問題 58 水戸市の西北部にある公園「セツ洞公園」^{ななつど}の説明として正しいものは次のうちどれでしょう。

- ① イギリス式の庭園として整備されている
- ② フランス式の庭園として整備されている
- ③ イタリア式の庭園として整備されている
- ④ 中国式の庭園として整備されている

問題 59 昭和9年（1934年）偕楽園内にある梅のうち、花の形、香り、色などが特に優れているものを「水戸の六名木」として決めました。水戸の六名木として誤っているものは次のうちどれでしょう。

- ① 柳川枝垂（やながわしだれ）
- ② 月影（つきかげ）
- ③ 残雪（ざんせつ）
- ④ 江南所無（こうなんしょむ）

問題 60 水戸市内の川はすべて一級河川那珂川水系に属しますが、次のうち水戸市内を流れることのない川はどれでしょう。

- ① 涸沼川
- ② 那珂川
- ③ 藤井川
- ④ 中丸川

問題 61 水戸市で制定している、「市の鳥」はハクセキレイですが、「市の木」と「市の花」について正しいものは次のうちどれでしょう。

- ① 市の木＝梅 市の花＝萩
- ② 市の木＝桜 市の花＝萩
- ③ 市の木＝桜 市の花＝梅
- ④ 市の木＝梅 市の花＝桜

問題 62 記録が残る貝塚として、世界最古の貝塚が水戸にあります。さてその貝塚の名称は何でしょう。

- ① 柳崎貝塚
- ② 大串貝塚
- ③ 谷田貝塚
- ④ 大森貝塚

問題 63 桜の開花日は、気象台が決めたソメイヨシノの木を見て判断します。水戸の桜の開花状態を計測するのに使われるのはどこの桜でしょう。

- ① 茨城県三ノ丸庁舎前の堀跡の桜
- ② 水戸地方気象台構内の桜
- ③ 護国神社隣の桜山の桜
- ④ 水戸市植物公園の桜

問題 64 偕楽園の植物に関する次の説明のうち、誤っているものはどれでしょう。

- ① 偕楽園の梅は、約100種、約3000本にも及ぶ。
- ② 偕楽園の萩は、仙台・伊達藩（だてはん）から取り寄せられたものである。
- ③ 好文亭前の左近の桜は、ソメイヨシノである。
- ④ 竹林の竹は京都の嵯峨（さが）から移されたものである。

問題 65 水戸市で一番高い山である「朝房山」の高さとして最も適切なものは次のうちどれでしょう。

- ① 約100m
- ② 約200m
- ③ 約300m
- ④ 約400m

問題 66 次に示すア～オのなかで、毎年春に行われる「水戸のつつじまつり」の会場の組み合わせとして正しいものは次のうちどれでしょう。

ア) 偕楽園 イ) 千波湖畔 ウ) 保和苑 エ) 水戸市植物公園
オ) 水戸市森林公園

- ① ア・ウ・オ
- ② ア・イ・オ
- ③ イ・エ・オ
- ④ ウ・エ・オ

問題 67 偕楽園下の洞窟はどのようにできたのでしょうか。

- ① 笠原水道用の石の採掘のため作られた。
- ② 那珂川との水のやりとりのため掘られた。
- ③ 戦争中、防空壕として造られた。
- ④ 二酸化炭素がとけ込み酸性になった雨水が、地層中の石灰分を溶かして空洞となった。

問題 68 水戸藩は、現在の水戸市のエリアだけでなく、県内そして一部は、現在の栃木県内にも領地をもっていました。さて、旧水戸藩の流れをくむ栃木県の現在の市町村名はどれでしょう。

- ① 宇都宮
- ② 那珂川町
- ③ 益子
- ④ 小山

問題 69 偕楽園の南崖に建っている「正岡子規の句碑」に記されている正岡子規の句について、空欄に入る言葉として正しいものは次のうちどれでしょう。

「 」梅ことごとく斜なり

- ① 「崖の背に」
- ② 「崖深く」
- ③ 「崖急に」
- ④ 「崖見上げ」

問題 70 好文亭について述べた次の文章のうち、誤っているものはどれでしょう。

- ① 現在の個人の観覧料は大人190円、小中学生100円である。
- ② 昭和44年（1969年）には落雷のため奥御殿が焼け、昭和47年（1972年）に復元された。
- ③ 「好文」の名前は中国での梅の別名に由来している。
- ④ 3階の「何陋庵」からは偕楽園の梅林から千波湖を見渡すことができる。

問題 71 水戸市内を流れる「逆川」の説明として、誤っているものは次のうちどれでしょう。

- ① 東野町に水源があり、柳堤橋付近で桜川と合流する。
- ② 全長5.8kmで、川全体が水戸市内におさまっている。
- ③ 川には全部で16本の橋がかけられている。
- ④ 現在は水質が少しずつ向上し、サケの遡上もみられるようになっている。

問題 72 偕楽園の説明として当てはまらないものはどれでしょう。

- ① 「日本三大公園」のひとつ
- ② 「関東三大梅林」のひとつ
- ③ 環境省選定「かおり風景100選」のひとつ
- ④ 文部科学省指定の「特別名勝」のひとつ

問題 73 水戸市では、市内の貴重な樹木や巨木を保存樹として指定していますが、2012年3月31日現在、市内で指定されている保存樹は何本あるでしょうか。

- ① 110本
- ② 220本
- ③ 330本
- ④ 440本

問題 74 水戸市大塚町の、おおつかじょうじゅいんいけ大塚成就院池公園のある地域に古くから存在し、

平成5年（1993年）から自生地として復元しようという試みもなされた野生植物として正しいものは次のうちどれでしょう。

- ① サギソウ
- ② アケボノソウ
- ③ ミズバショウ
- ④ タムラソウ

問題 75 偕楽園内、眼病に効く水と言われていた吐玉泉の傍らにたつ樹齢700年をこえる杉の大木の俗称はなんでしょう。

- ① 次郎杉
- ② 太郎杉
- ③ 小五郎杉
- ④ 槍杉

問題 76 現在茨城県の特産物として有名な白菜の栽培は、水戸市から始まりました。白菜に関する次の文章のうち誤っているものはどれでしょう。

- ① 日清戦争に従軍した兵士が、中国から種子を持ち帰った。
- ② 水戸市の肥料商鈴木文次郎が、栽培を広めた。
- ③ 茨城白菜として有名になった。
- ④ 初期の主産地は飯富村であったが、のち大野地区に広まった。

問題 77 水戸の農人形について述べた次の文章で、正しいものはどれでしょう。

- ① 徳川光圀が農業を奨励するために作らせた。
- ② 徳川斉昭が作らせ、農人形に供えてから食事をしたという。
- ③ 江戸時代より前から、豊作を祈って作られていた。
- ④ 明治時代に土産として始まった。

問題 78 J Aによる水戸市内の青果物販売実績について、重量・金額ともに1番の青果物は次のうちどれでしょう。

- ① きゅうり
- ② いちご
- ③ にんじん
- ④ なし

問題 79 水戸の銘菓「吉原殿中」について、正しいものは次のうちどれでしょう。

- ① 徳川慶喜が名付けたと言われている。
- ② 徳川光圀の食べ残しを使って作ったと言われている。
- ③ 最後に砂糖をまぶしている。
- ④ 水戸城大奥に務める吉原が考え出した。

問題 80 二代藩主光圀は好奇心旺盛で、文献上日本で初めて食したとされる食べ物が多くあります。光圀が食したとされる料理のうち、誤っているものは次のうちどれでしょう。

- ① カレー
- ② 餃子
- ③ チーズ
- ④ ラーメン

問題 81 水戸市の西部にある「森林公園」には、森のシェーブル館があり市民に親しまれています。さてシェーブルの言語とその意味について正しいものは次のうちどれでしょう。

- ① フランス語－牛
- ② イタリア語－牛
- ③ フランス語－山羊
- ④ イタリア語－山羊

問題 82 水戸市の歓楽街（かんらくがい）として有名な大工町周辺には歴史のある料亭がいくつも存在しています。大工町にある料亭のうち、誤っているものはどれでしょう。

- ① 霞月楼（かげつろう）
- ② 中川楼（なかがわろう）
- ③ 鰻亭（ぼんてい）
- ④ 山口楼（やまぐちろう）

問題 83 水戸納豆が有名になった理由は次のうちどれでしょう。

- ① 江戸時代、徳川光圀が出版させ、全国諸藩に配布した農書「斉民要術」（せいみんようじゅつ）により、保存食として紹介されたから。
- ② 大正時代、水戸駅前販売した所、当時珍しかった早生（わせ）の品種である小粒大豆を使用した納豆であることが好評だったため。
- ③ 昭和初期に、観梅の時期に合わせて、大規模な引札（現在のチラシのようなもの）による宣伝活動を展開し、観光客が増加したため。
- ④ 第二次世界大戦後、近代化の流れの中で廃れてしまった伝統的な藁で作った納豆を再現したから。

問題 84 水戸のB級グルメとして注目をあびる「スタミナラーメン」ですが、スタミナの由来となった、ラーメンに入れる「あるもの」とは次のうちどれでしょう。

- ① カルビ（あばら肉）
- ② タン（舌）
- ③ ハツ（心臓）
- ④ レバー（肝臓）

問題 85 水戸市の和食料理店・大塚屋の故大塚子之吉（ねのきち）が古文献を頼りに再現したのが「黄門料理」です。黄門料理の提供について正しく述べているものはどれでしょう。

- ① 黄門料理を提供できるのは水戸徳川家に縁ある特定の老舗に限られている。
- ② 黄門料理を提供できるのは旧水戸大塚屋に何らかの縁を有する経営者に限られている。
- ③ 現在黄門料理を提供しているのは老舗の和食料理店5店だけである。
- ④ 現在黄門料理を提供しているのはホテルを含め9店ある。

問題 86 次の清酒のうち水戸市内の酒造家の銘柄でないものはどれでしょう。

- ① 副将軍
- ② 一品
- ③ 三ツ扇
- ④ 菊盛

問題 87 J A水戸のねぎ生産部会では平成9年(1997年)からハウス栽培による軟白ねぎの栽培を始めました。その説明のうち誤っているものはどれでしょう。

- ① ブランド名は柔甘(やわらか)ねぎである。
- ② 茎の部分を遮光ネットで蔽い軟白部を多くする。
- ③ 無農薬で栽培する。
- ④ 有機質主体の肥料を使用する。

問題 88 那珂川の漁業権を持っていた菊地家では、毎年遡上してくる鮭を使った食品を天皇家に献上していました。その食品名はどれでしょう。

- ① 梅酢漬け
- ② 粕漬け
- ③ へしこ漬け
- ④ 初霜漬け

問題 89 水戸は納豆で有名です。納豆に関する次の説明のなかで、誤っているものはどれでしょう。

- ① 全国納豆協同組合連合会に加盟し、水戸市内に本社がある納豆製造業者は4社ある。
- ② 1g中に約10億個の納豆菌がいて、高血圧や脳卒中の予防効果もある。
- ③ 水戸市は納豆の一世帯あたり消費量が常に日本一である。
- ④ 戦後中毒事件が起こり、わらづとが廃止されていく中、伝統的なわらづと納豆を売り続けた。

問題 90 総務省の家計調査(H21年～23年平均)の結果から見られる、水戸市の一世帯当たりの年間消費支出額を全国の都道府県庁所在地、政令指定都市と比較したときにベスト5に当てはまらないものはどれでしょう。

- ① せんべい
- ② メロン
- ③ プリン
- ④ リンゴ

問題 91 毎年梅まつりの時期に行われる「水戸納豆早食い世界大会」。決勝で一人が食べる納豆は何gでしょう。なお、市販の普通のわらづと入り納豆は1本70gです。

- ① 210g
- ② 280g
- ③ 350g
- ④ 420g

問題 92 「水戸藩らーめん」は、蓮根粉を練り込んだ麺と、5種類の薬味を入れることを特徴にしています。次のうち、5種類の薬味の組み合わせとして正しいものは次のうちどれでしょう。

- ① 「ニンニク・ニラ・ラッキョウ・ネギ・ショウガ」
- ② 「ニンニク・ニラ・ミョウガ・ネギ・ショウガ」
- ③ 「ニンニク・ニラ・ラッキョウ・ネギ・シソ」
- ④ 「ニンニク・ニラ・ミョウガ・ネギ・シソ」

問題 93 明利酒類株式会社の「百年梅酒」は、毎年大阪天満宮で開催される「天満天神梅酒大会」で日本一に輝いたことがあります。それは何年の大会でしょう。

- ① 2008年
- ② 2009年
- ③ 2010年
- ④ 2011年

問題 94 平成24年(2012年)10月に行われた「とっとりバーガーフェスタ2012 全国ご当地グランプリ」で3位を受賞した、水戸のご当地B級グルメの名前として正しいのは次のうちどれでしょう。

- ① 「水戸うめバーガー」
- ② 「水戸らーめんバーガー」
- ③ 「水戸ちゃあしゅうバーガー」
- ④ 「水戸なっとうバーガー」

問題 95 総務省家計調査(平成21年～23年平均)による食品に関する調査結果について、次の文章のうち正しいものはどれでしょう。

- ① 全国の県庁所在地のなかで、水戸市はたらこの購入額が1位である。
- ② 全国の県庁所在地のなかで、水戸市はかまぼこの購入額が2位である。
- ③ 全国の県庁所在地のなかで、水戸市はようかんの購入額が3位である。
- ④ 全国の県庁所在地のなかで、水戸市はかつおの購入額が4位である。

問題 96 茨城県の収穫量が全国2位であり、水戸市内原地区が県内最大の生産地になっている作物は次のうちどれでしょう。

- ① 小豆
- ② ピーナッツ
- ③ ごま
- ④ 大豆

問題 97 水戸商工会議所青年部によって開発された、水戸のご当地グルメの名前として正しいものは次のうちどれでしょう。

- ① 水戸納豆サンド
- ② 水戸納豆ピタパン
- ③ 水戸納豆マフィン
- ④ 水戸納豆ケバブ

問題 98 2月28日は全国ビスケット協会によって「ビスケットの日」と定められていますが、これは水戸藩士の柴田方庵にまつわる、安政2年（1855年）2月28日の「ある出来事」が由来になっています。さて、その出来事として正しいものは次のうちどれでしょう。

- ① ビスケットを柴田方庵が日本で初めて作り、水戸城にて藩主に献上した。
- ② 柴田方庵が、留学中に学んだビスケットの作り方を手紙にして水戸藩に宛てて送った。
- ③ 柴田方庵がビスケットのレシピを学び、水戸藩内で大衆向けに売り出しを始めた。
- ④ 長崎に留学中だった柴田方庵が、日本人で初めてオランダ人にビスケットを振舞われた。

問題 99 「J's GOAL（Jリーグ公認ファンサイト）」によるスタジアムグルメの投票「2012食べりんピック」において、水戸市のお店「酒趣」のメニューが銅賞に選ばれました。このメニューとは一体なんでしょう。

- ① ふわふわ雪氷フルーツ
- ② 氷柿
- ③ メロンまるごとクリームソーダ
- ④ アイスプリン

問題 100 水戸市愛宕町の滝坂の泉にある曝井さらしい碑には、那珂郡曝井なかのこおりの歌として
「三栗の 那珂に向へる 曝井の 絶えず通はむ 彼所に妻もが」
が刻まれています。この歌が収録されている書物は次のどれでしょう。

- ① 『古今和歌集』
- ② 『新古今和歌集』
- ③ 『万葉集』
- ④ 『常陸国風土記』